

藍田循道衛理小學
一年級數學科暑期工作紙

姓名：_____ ()

班別：1年級_____班

日期：_____

1. 順序用阿拉伯數字及中國數字寫出 1-10。

阿拉伯 數字	1				5					
中國 數字	一									十

2. 依順數或倒數填數字。

A. 順數：

3	4			7		9
---	---	--	--	---	--	---

11			14	15		17
----	--	--	----	----	--	----

B. 倒數：

10	9		7	6		
----	---	--	---	---	--	--

15		13	12		10	
----	--	----	----	--	----	--


家長小貼士：
與小朋友練習數數順數
和倒數。



藍田循道衛理小學
一年級數學科暑期工作紙

3. 數一數，把正確的數目填在橫線上，並圈出正確答案。


a.



共有 _____ 隻  。

這個數是 *(單數 / 雙數)

b.




共有 _____ 隻  。


這個數是 *(單數 / 雙數)


家長小貼士：
教授小朋友數數的技巧及
單數和雙數的意義。



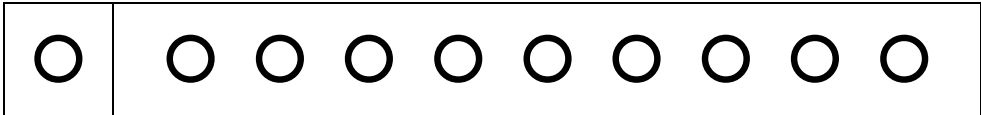
4. 數數填填。

a.  () + () = ()


b.  () + () = ()


c.  () - () = ()

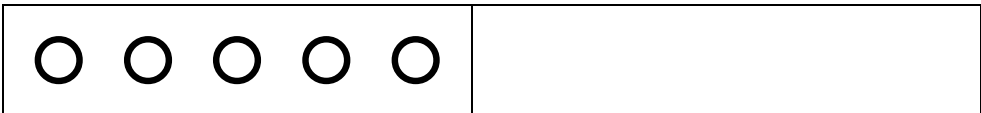
5. 在空格內加畫圓形來找出 10 的組合，並在括號內填上答案。

例：1 和 (9) 是 10 

2 和 () 是 10 

3 和 () 是 10 

4 和 () 是 10 

5 和 () 是 10 



家長小貼士：
小朋友記認十的組合，有助
他們學習加法和減法。


6. 由左面數起，把第2個△填上顏色。









7. 由右面數起，把第3個☆填上顏色。





8. 依據你觀察的方向，圈出以下題目的正確答案。



a.  的前面是 * ( /  / )

b.  在  的 * (左 / 右 / 前 / 後) 面。

c.  在  的 * (前 / 後 / 上 / 下) 面。



家長小貼士：
教導小朋友辨認位置，如上、下、
左、右、前及後。

請圈出正確的答案。

9.



比



*(高 / 矮)。

10.



比



*(長 / 短)。

11.



小玲




小美



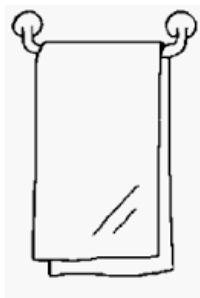
小卓

小玲與小美 較 小卓與小美 *(遠 / 近)。

12.



比



*(闊 / 窄)。



家長小貼士：
與小朋友認識長度及比較的概念，
例如：高和矮、長和短、遠和近、
闊和窄、厚和薄。

藍田循道衛理小學
一年級數學科暑期工作紙

13. 在以下空格畫出一條指定的線段。

a. 直線




b. 曲線




14. 用直線畫出以下兩個圖形。(注意：必須貼著方格線)

a. 正方形



b. 長方形



家長小貼士：
指導小朋友如何使用直尺。